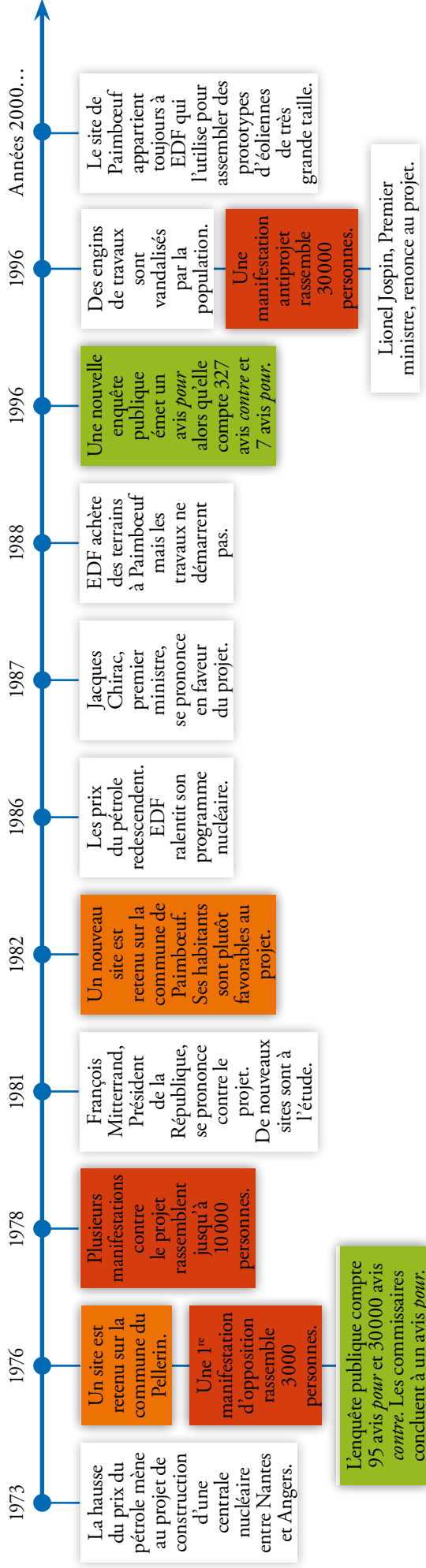


Observe cette chronologie. Colorie en orange les cases mentionnant les sites retenus pour l'implantation de la centrale nucléaire.

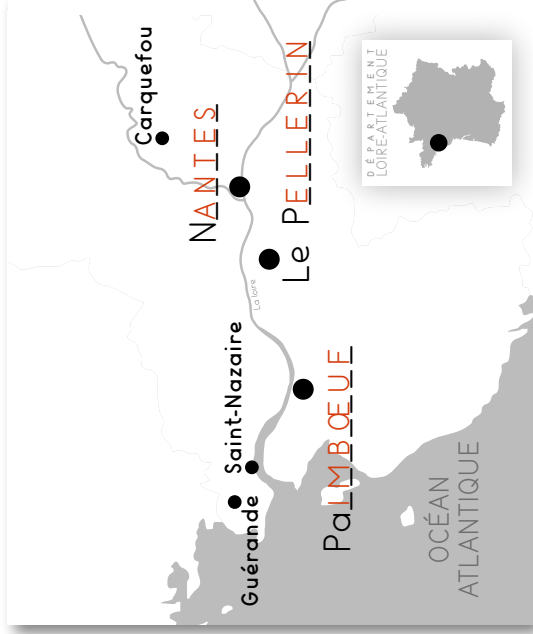
Colorie en rouge les cases où il est question des manifestations contre le projet.

Colorie en vert les cases donnant les résultats des enquêtes publiques. Réponds ensuite aux questions.

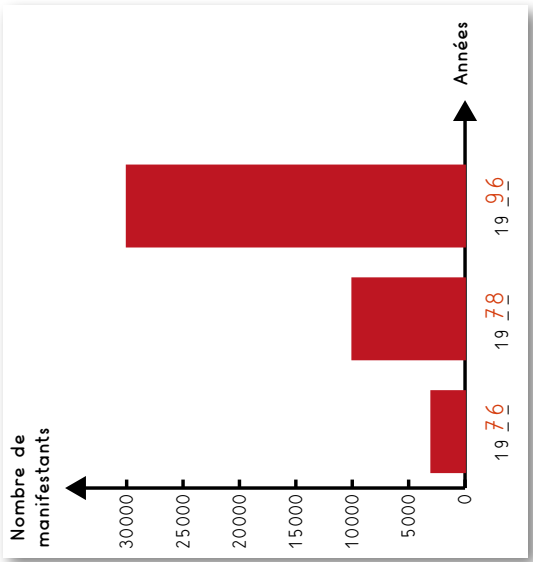


L'enquête publique compte 95 avis pour et 30 000 avis contre. Les commissaires concluent à un avis pour.

1. Complète cette carte avec les noms des lieux mentionnés dans la chronologie.



2. Complète ce graphique avec les années où ont eu lieu les manifestations.



3. Complète ce tableau avec le nombre de votes pour/contre recensés à chaque enquête publique.
Remplis la dernière ligne en indiquant si les commissaires se sont prononcés pour ou contre le projet.

Votes pour	1976	1996
Votes contre	7	327
Avis des commissaires	95	30 000
	pour	pour