

Un référent est disponible sur le site de l'école

Rituels

1. Ecris la date du jour et du lendemain, de l'avant-veille et du surlendemain, ainsi que les petites dates.

2. Ecris la date d'aujourd'hui en anglais.

3. Ecris une phrase avec ma maison.

5. Pose et calcule :

$$653+843=$$

$$842-459=$$

Pour Adrien, Cléa, Maxence : $35 \times 53 =$ et $985 : 5 =$

Pour Mathilde, Inès, Alicia : $74 \times 2 =$ et 36 partagé en 2

Français

1. Vas sur ce site, regarde la vidéo et entraîne toi avec les petits jeux.

<https://www.clicmaclasse.fr/le-present-des-verb-es-du-premier-groupe/>

et fais les exercices

④ **Entoure le verbe qui convient.**



Lucas *marche*
marches en écoutant de la musique.
marchent



Mes parents et moi *passent*
passons de bonnes vacances.
passez



Théo et Jessica *aime*
aimes jouer au tennis.
aiment



Ton papa et toi *plante*
plantez un petit arbre.
plantent



Tu *travaille*
travaillent sur l'ordinateur.
travailles

⑤ Complète les phrases en conjuguant les verbes au présent.



(préparer) Amélie _____ un gâteau.



(colorier) Nous _____ notre dessin.



(s'embrasser) Les mariés _____.



(sauter) Tu _____ en parachute.



(jouer) A quel jeu _____-vous ?



(couper) Je _____ du bois.



(pousser) Les fleurs _____ au printemps.



(apporter) Le Père Noël _____ des cadeaux.

2. inférences

Septembre, décembre, janvier, février, mai, ou juin ?

Au 1^o, nous souhaiterons la bonne année à tous nos voisins.

Les enfants ont cherché du muguet sauvage dans la forêt, dimanche, ce sera

le 1^o

Le mois le plus court de l'année c'est

C'est en que l'on décore les sapins.

3. Ecoute la lecture de c'est moi le plus beau

<https://www.youtube.com/watch?v=nZpWAMqaxo8>

et fais la fiche 1

<http://ekladata.com/zTHqO2ik3-q9CNqHzdk347I4Xxg.pdf>

Mathématiques

Pour Mathilde :

1. les nombres jusqu'à 999

Complète la suite des nombres.

797	798					
886	887					
576	577					
667	668					

Complète le tableau.

	sept cent soixante-douze
	huit cent quatre-vingt dix-sept
	neuf cent soixante-seize

Place les signes < ou >.

998 989 978 987 879 897

997 799 877 878 778 877

978 879 909 990 977 797

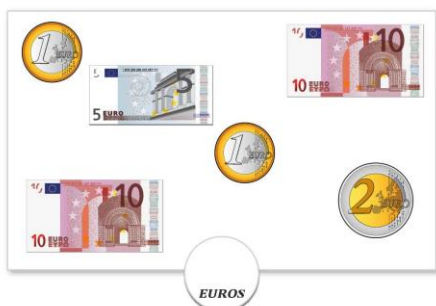
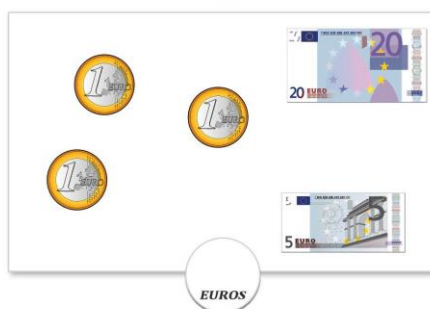
Range du plus petit au plus grand.

909 - 990 - 979 - 908 - 980

--	--	--	--	--

2. fais ces exercices sur les euros

http://www.les-coccinelles.fr/lienpage2/operation/monnaie/calcul_monnaie_decompo_10_1.pdf



Pour Inès et Alicia

1. Les nombres jusqu'à 300

. Compte de 2 en 2.

258 – 260 - ____ - ____ - ____ - ____ - ____ - 272 - ____ - ____ - ____

238 – 240 - ____ - ____ - ____ - 248 - ____ - ____ - ____ - ____ - ____

. Complète le tableau.

Avant	Nombre	Après
	258	
	264	
	270	
	289	
	291	
	279	

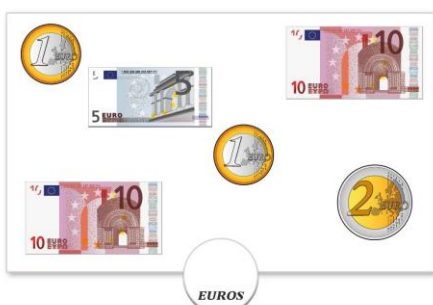
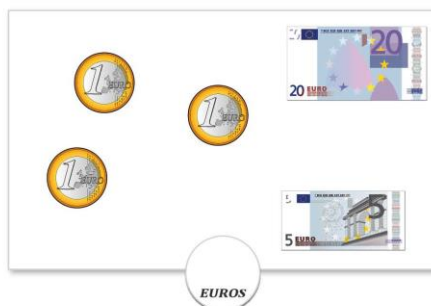
. Range les nombres du plus petit au plus grand.

252 251 249 254 265 261 260 257 250

____ - ____ - ____ - ____ - ____ - ____ - ____ - ____ - ____ - ____

fais ces exercices sur les euros

http://www.les-coccinelles.fr/lienpage2/operation/monnaie/calcul_monnaie_decompo_10_1.pdf



Pour Léa :

1. Fais les calculs

Calcule.

	dizaine	unité
	1	2
+	2	6
<hr/>		

... + ... = ...

	dizaine	unité
	2	8
+	1	2
<hr/>		

... + ... = ...

	dizaine	unité
	1	9
+	2	6
<hr/>		

... + ... = ...

	dizaine	unité
	1	9
+	1	8
<hr/>		

... + ... = ...

	dizaine	Unité
	2	6
+	2	5
<hr/>		

... + ... = ...

	dizaine	unité
	2	9
+	1	8
<hr/>		

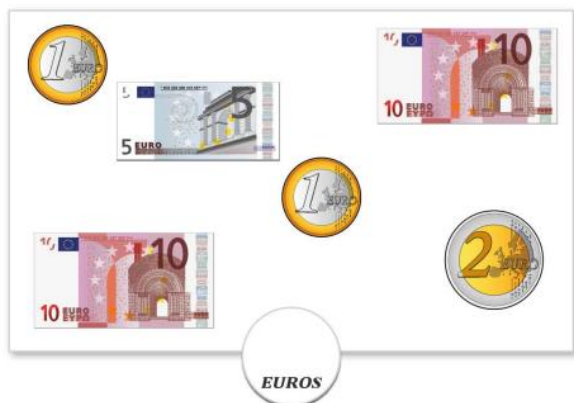
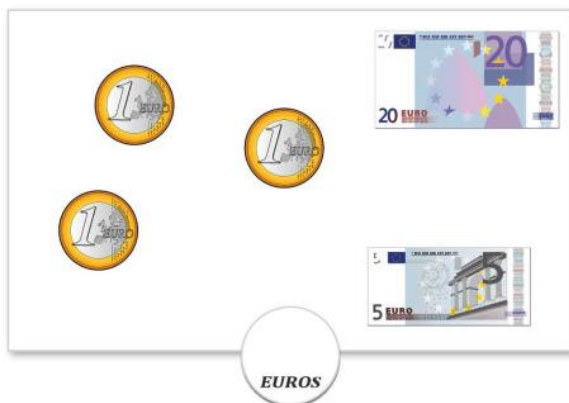
... + ... = ...

2. Fais la fiche 1

<http://www.lepetitjournaldesprofs.com/laclassedefine/wp-content/uploads/sites/18/2016/08/RLlgudLhOSFB-Jfegwfl1H7Pp70.pdf>


3. la monnaie

http://www.les-coccinelles.fr/lienpage2/operation/monnaie/calcul_monnaie_decompo_10_1.pdf




Pour toutes les 4


Résous ces problèmes (tu peux faire des dessins pour t'aider)

 **Petits Problèmes** 13


Alex a construit 3 tours. Pour chaque tour, il a utilisé 5 cubes. Combien a-t-il utilisé de cubes pour construire toutes ses tours ?




--	--	--	--	--	--	--	--	--	--	--	--	--	--	--	--	--	--	--	--

 **Petits Problèmes** 14


Alex a lu 320 pages d'un livre. Il en lit encore 125 pages. Combien de pages a-t-il lu ?




--	--	--	--	--	--	--	--	--	--	--	--	--	--	--	--	--	--	--	--

 **Petits Problèmes**


Moustik a 10 cubes. Il veut utiliser tous ses cubes. Combien de tours peut-il construire avec ses cubes ?



--	--	--	--	--	--	--	--	--	--	--	--	--	--	--	--	--	--	--	--

 **Petits Problèmes**

Lisa a gagné 6 sachets de perles. Dans chaque sac, il y a 10 perles. Combien de perles a-t-elle gagné au total ?



--	--	--	--	--	--	--	--	--	--	--	--	--	--	--	--	--	--	--	--

Pour vous entraîner en jouant

Tables de multiplications : <https://www.logicieleducatif.fr/math/calcul/tablesmultiplication.php>

La monnaie : <https://www.logicieleducatif.fr/math/calcul/euromonnaie.php>



Mardi 31 mars

Rituels

1. Ecris la date : il y 8 jours

2. Refais ce jeu sur la date en anglais :

<https://www.logicieleducatif.fr/college/anglais/vocabulaire-anglais-jours-de-semaines-et-mois-de-l-annee.php>

3. Ecris la date d'aujourd'hui en anglais.

4. Ecris une phrase avec eau et chocolat . Puis transforme la en phrase négative.

5. Fais les exercices suivants

Range les nombres du plus petit au plus grand

741 – 54 – 233 – 747 – 5 - 411

Mets le signe qui convient : < ou > ou =

741	789	300	300	541	654
258	654	35	541	321	312
456	465	625	654	24	240

Français

Regarde la vidéo sur cette page et entraîne-toi en faisant les jeux

<https://www.clicmaclasse.fr/le-present-des-verbess-etre-et-avoir/>

② Complète les phrases en conjuguant le verbe être au présent.



Je _____ un bon cavalier.



Le lionceau _____ le petit du lion.



Les étoiles _____ loin dans le ciel.



Nous _____ des jumelles.



Tu _____ meilleur que moi aux échecs.



Vous _____ perdu, Monsieur ?

③ Complète les phrases en conjuguant le verbe avoir au présent.



J'_____ un bouton sur la joue.



Vous _____ une belle voiture rouge.



L'éléphant _____ des oreilles énormes.



Nous _____ un train à prendre.



Les enfants _____ peur du loup.



Tu _____ cinq ans aujourd'hui.

Ecoute la lecture de c'est moi le plus beau

<https://www.youtube.com/watch?v=nZpWAMqaxo8>

et fais les fiche 2 et 3

<http://ekladata.com/zTHqO2ik3-q9CNqHzdk347I4Xxg.pdf>

Lis et complète

Tôt ou tard ?

Je suis désolée, j'ai tout vendu, c'est dommage. Vous auriez dû venir plus

Maman, la boulangère n'avait plus de pain, je suis passé trop

Mossad est plus âgé que Soraya, il a le droit de se coucher plus.....

Cynthia a attendu le train plus de deux heures ! Elle était arrivée bien trop à la gare.

..... le matin, la méchante marâtre avait fait venir un chasseur et lui avait ordonné d'emmener la jeune fille dans le bois pour la tuer.

Mathématiques

Pour Mathilde :

Les nombres

Entoure le nombre le plus petit de chaque liste.

⇒ 789 879 887 987 798 779

⇒ 524 254 225 425 542 554

⇒ 103 102 101 301 130 113

Complète le tableau.

	centaines	dizaines	unités
879	8	7	9
987			
897			
709			
800			
970			

Décompose chaque nombre.

exemple : $452 = 400 + 50 + 2$

745 =

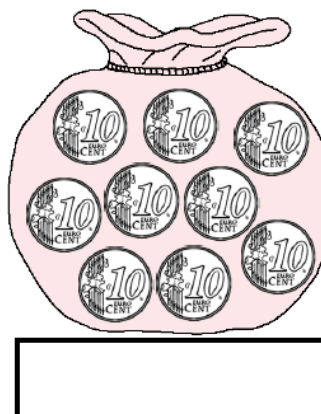
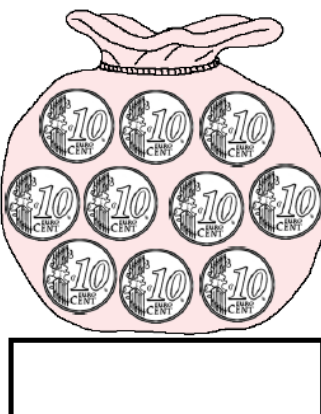
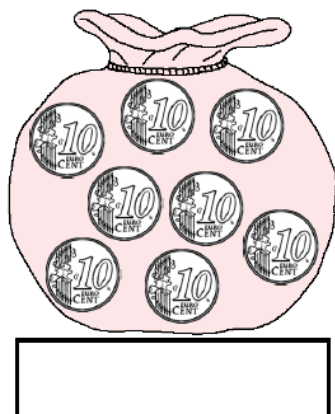
980 =

709 =

788 =

la monnaie

1. Ecris la somme contenue dans chaque porte-monnaie.



Pour Inès et Alicia

Les nombres jusqu'à 300

• Complète le tableau.

	<i>Deux cent soixante-dix-huit</i>
	<i>Deux cent quatre-vingt-dix-neuf</i>
	<i>Deux cent douze</i>
	<i>Deux cent soixante-seize</i>
	<i>Deux cent vingt-six</i>

• Complète avec < ou >

$226 \text{ ____ } 262$

$254 \text{ ____ } 245$

$216 \text{ ____ } 261$

$221 \text{ ____ } 212$

$204 \text{ ____ } 240$

$212 \text{ ____ } 221$

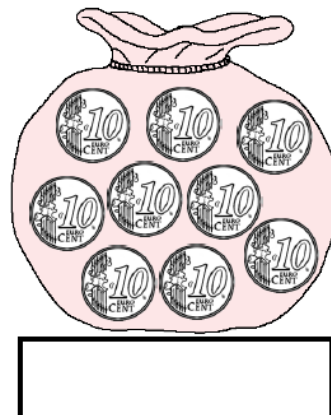
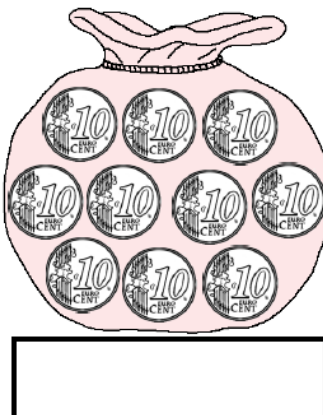

$266 \text{ ____ } 206$

$250 \text{ ____ } 205$

$256 \text{ ____ } 265$

la monnaie

1. Ecris la somme contenue dans chaque porte-monnaie.



Pour Léa :

Fais ces exercices sur les euros

http://www.les-coccinelles.fr/lienpage2/operation/monnaie/calcul_monnaie_decompo_10_1.pdf

Fais la fiche 2

<http://www.lepetitjournaldesprofs.com/laclassedefine/wp-content/uploads/sites/18/2016/08/RLlgudLhOSFB-JfegwL1H7Pp70.pdf>

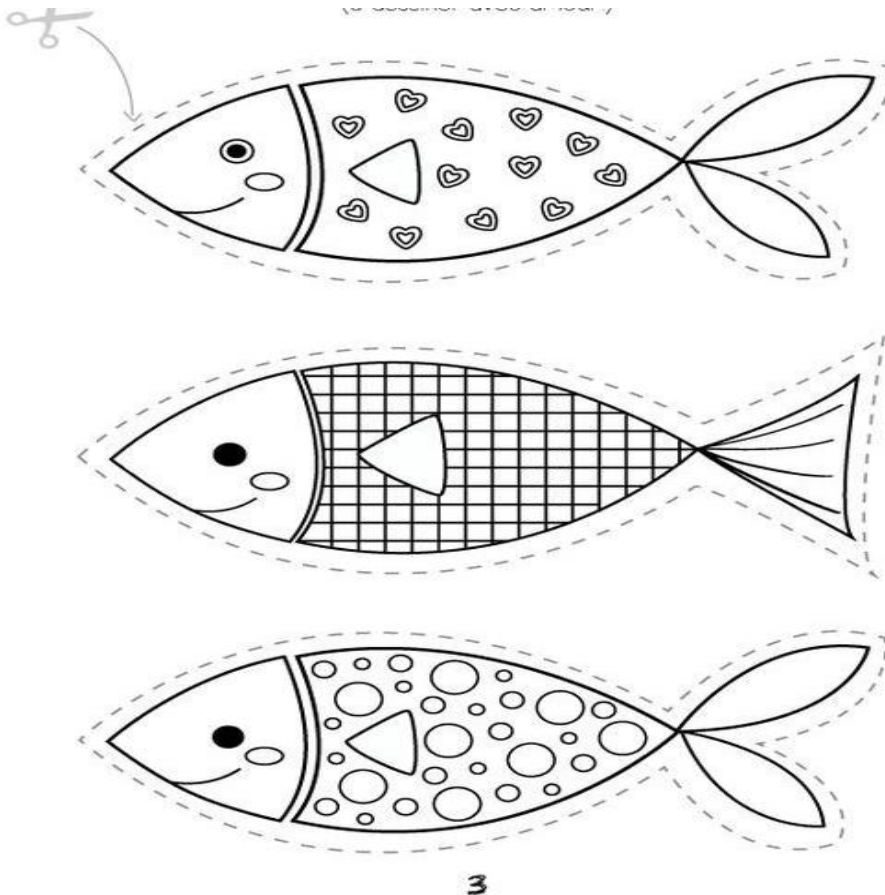
Dictée de mots nombres : écris en lettres 11-8-9-14-20

Petits jeux pour réviser :

<https://www.logicieleducatif.fr/eveil/geographie/jours-de-la-semaine.php>

<https://www.logicieleducatif.fr/eveil/geographie/mois-de-l-annee.php>

Pour t'amuser à coller dans le dos de tes parents et pas celui de la maîtresse, voilà des petits poissons à colorier pour le 1^{er} avril.



Jeudi 2 avril

Rituels

1. Ecris la date : dans 4 jours

2. Refais ce jeu sur la date en anglais :

<https://www.logicieleducatif.fr/college/anglais/vocabulaire-anglais-jours-de-semaines-et-mois-de-l-annee.php>

3. Ecris la date d'aujourd'hui en anglais.

4. Ecris une négative avec 1er avril dedans

5. Fais les exercices suivants

Ecris les nombres en lettres

198 :

249 :

146 :

Ecris les nombres en chiffres

Deux-cent- quatre-six : _____

cent douze : _____

cent soixante-trois : _____

Français

Les verbes être et avoir au présent

④ Complète les phrases avec le pronom qui convient.

je j' tu il elle nous vous ils elles

_____ êtes encore en train de jouer. _____ ont les yeux bleus.

_____ ai envie d'une glace. _____ sommes dans la même classe.

_____ as une bonne idée. _____ suis dans le jardin.

_____ sont chez le coiffeur. _____ avons encore faim.

_____ es un bon musicien. _____ est plus rapide que moi.

_____ avez du travail à terminer. _____ a un chat roux.

Relis la leçon sur les nombres en lettres, demain tu auras une dictée.

Ecoute la lecture de c'est moi le plus beau

<https://www.youtube.com/watch?v=nZpWAMqaxo8>

et fais la fiche 4

<http://ekldata.com/zTHqO2ik3-q9CNqHzdk347I4Xxg.pdf>

Mathématiques


Pour Inès, Mathilde et Alicia : rappel $54 \times 10 = 540$

Calcule rapidement


- $5 \times 10 = \dots\dots\dots$
- $6 \times 100 = \dots\dots\dots$
- $12 \times 10 = \dots\dots\dots$
- $25 \times 10 = \dots\dots\dots$
- $39 \times 10 = \dots\dots\dots$
- $10 \times 10 = \dots\dots\dots$
- $24 \times 10 = \dots\dots\dots$
- $10 \times 15 = \dots\dots\dots$
- $10 \times 36 = \dots\dots\dots$
- $100 \times 8 = \dots\dots\dots$
- $100 \times 6 = \dots\dots\dots$
- $100 \times 16 = \dots\dots\dots$
- $10 \times 19 = \dots\dots\dots$

La monnaie : rappel $1\text{€} = 100\text{ centimes}$


2. Colorie les pièces pour avoir la somme indiquée.




70 centimes d'€




90 centimes d'€



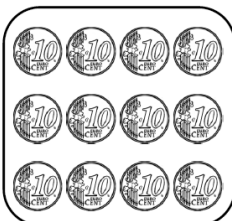
80 centimes d'€



1 €



1 € 10



1 € 20

Pour Léa

	dizaine	unité
	1	5
+	2	8

... + ... = ...

	dizaine	Unité
	1	8
+	1	6


... + ... = ...

	dizaine	unité
	1	5
+	1	5


... + ... = ...

La monnaie : **rappel 1€ = 100 centimes**


2. Colorie les pièces pour avoir la somme indiquée.




70 centimes d'€




90 centimes d'€




80 centimes d'€



1 €



1 € 10



1 € 20



Vendredi 3 avril

Rituels

1. Ecris la date .

2. Refais ce jeu sur la date en anglais :

<https://www.logicieleducatif.fr/college/anglais/vocabulaire-anglais-jours-de-semaines-et-mois-de-l-annee.php>

3. Ecris la date d'aujourd'hui en anglais.

4. Ecris une phrase exclamative finissant par poireaux.

5. Fais les exercices suivants

Trouve le résultat:

$$3 \times 2 =$$

$$3 \times 4 =$$

$$5 \times 8 =$$

Ecris la multiplication et trouve le résultat :

$$4 + 4 + 4 =$$

$$2 + 2 + 2 + 2 =$$

$$6 + 6 + 6 =$$

Français

Le nom : regarde la vidéo et fais les exercices <https://lesfondamentaux.reseau-canope.fr/video/le-nom.html>



LE NOM



1 Je recopie seulement les noms

chien- regarder- les

--	--	--	--	--	--	--	--	--	--

soleil - lire - réfléchir

--	--	--	--	--	--	--	--	--	--

voisin - visiter - fille

--	--	--	--	--	--	--	--	--	--

2 J'entoure seulement le nom

un lapin - mon père - un beau sapin - une voiture

neuve - de belles fleurs rouges - une classe -

un élève - des tables - des jouets - deux livres

3 J'entoure seulement les noms


Il va à la piscine.

Elle mange une pomme.

Elle joue à la poupée.

Elle porte une jupe.

Il écrit sur une ardoise.



Fais une dictée de mots nombres (en lettres) (41, 57, 26, 65, 34)

8. Ecoute la lecture de c'est moi le plus beau

<https://www.youtube.com/watch?v=nZpWAMgaxo8>

et fais les fiche 5 et 6

<http://ekladata.com/zTHqO2ik3-q9CNqHzdk347I4Xxg.pdf>

Mathématiques

Les doubles : regarde la vidéo et fais les exercices

<https://lesfondamentaux.reseau-canope.fr/video/calculer-les-doubles-12.html>

1 Colorie uniquement les doubles

$4 + 4$	$3 + 4$	$1 + 5$	$1 + 1$
$2 + 7$	$2 + 2$	$6 + 5$	$3 + 3$
$6 + 8$	$6 + 6$	$5 + 5$	$6 + 3$



2 Colorie de la même couleur les additions et leur résultat.

10	$4 + 4$	6	$1 + 1$	12
		$2 + 2$	$5 + 5$	$3 + 3$
2	4		8	
	$6 + 6$			

1 Calcule les doubles.

Le double de 5 : _____ Le double de 10 : _____
Le double de 3 : _____ Le double de 4 : _____
Le double de 7 : _____ Le double de 2 : _____
Le double de 1 : _____ Le double de 8 : _____



Bravo , une nouvelle semaine de travail de faite !!!!

En plus

Des idées de recettes <https://www.c-monetiquette.fr/blog/category/les-recettes-du-ptit/chef>

N'hésiter pas à aller sur le site lumni, <https://www.lumni.fr/primaire>, il y a des vidéos et des jeux pour chaque niveau de classe.

Le site https://www.jeuxpedago.com/index_c.php propose des jeux intéressant également pour réviser des notions particulières.

